
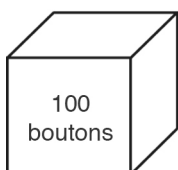


Leçon 10 : Estimer jusqu'à 1 000

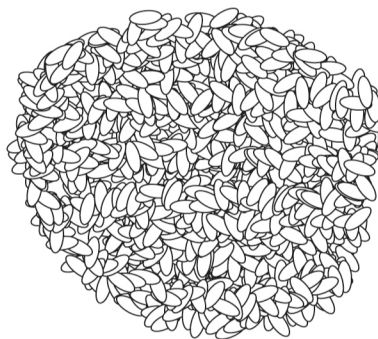
1. Selon toi, combien y a-t-il de boutons dans la grande boîte ?
Comment as-tu fait ton estimation ?
Explique ton raisonnement à l'aide d'images, de nombres ou de mots.



2. Quelle est la meilleure estimation du nombre de graines dans la grosse pile ? Explique ton choix.



100



Eric 120

Sergio 750

Danielle 510

Leçon 10

1. Je crois qu'il y a environ 300 boutons dans la grande boîte, car la boîte contient environ 3 petites boîtes de 100 boutons.
2. Je crois que la réponse de Danielle est la plus proche, car la grosse pile semble à peu près 5 fois plus grosse que la pile de 100.